

11 Павлова Д
49

**Муниципальный этап всероссийской олимпиады школьников
по физической культуре 2023 - 2024 учебный год
Теоретическая часть: 9 – 11 класс**

Инструкция по выполнению заданий

Вам предлагаются задания, основанные на содержании основной образовательной программы основного общего образования.

Задания объединены в 7 групп:

1 группа (1 – 13 вопросы). Задания в закрытой форме, с предложенными вариантами ответов. Задания представлены в форме незавершенных утверждений, которые, при завершении, могут оказаться либо истинными, либо ложными. Правильным является то, которое наиболее полно соответствует смыслу утверждения. При выполнении этих заданий, необходимо выбрать только один правильный ответ!

2 группа (14 - 16 вопросы). Задания в закрытой форме, с несколькими предложенными вариантами ответов. Это условие указано в задании «Отметьте все позиции!». При выполнении этих заданий, необходимо выбрать несколько правильных ответов.

Выбранные варианты ответов группы 1 и 2 отмечаются зачеркиванием соответствующего квадрата в бланке ответов.

3 группа (17 вопрос). Задания в которых необходимо установить последовательность предложенных вариантов ответов. Ответы вписывайте в соответствующую графу бланка ответов. Жюри оценивает каждую, представленную позицию.

4 группа (18 - 26 вопрос). Задания в открытой форме, то есть, без предложенных вариантов ответов. При выполнении этого задания, необходимо самостоятельно подобрать вариант ответа, который, завершая высказывание, образует истинное утверждение. Подобранный ответ вписывайте в соответствующую графу бланка ответов. Записи должны быть разборчивыми. Жюри оценивает каждую представленную Вами позицию.

5 группа (27 - 28 вопрос). Визуальные задания, в которых необходимо написать вариант ответа, который соответствует представленной картинке. Ответы вписывайте в соответствующую графу бланка ответов. Жюри оценивает каждую, представленную позицию.

6 группа (29 вопрос). Задание-задача. По представленным данным следует ответить на поставленные вопросы. Записи выполняйте в бланке ответов.

7 группа (30 вопрос). Задание, в котором необходимо установить соответствие между предложенными вариантами.

Внимательно читайте задания и предлагаемые варианты ответов. Старайтесь не угадывать, а логически обосновывать сделанный Вами выбор. Пропускайте незнакомые задания. Это позволит сэкономить время для выполнения других заданий. Впоследствии, Вы сможете вернуться к пропущенному заданию.

Все ответы на предложенные задания вписываются в бланк ответов! Будьте внимательны, делая записи в бланке ответов. Исправления и подчистки оцениваются как неправильный ответ.

Время выполнения заданий – 45 минут!

Желаем удачи!

Навадова Дарья

1. На каком расстоянии от мяча ставится «стенка», при выполнении штрафного удара в футболе?

- а) не ближе 7,25 м
б) не ближе 9 м
в) не ближе 9,15 м
г) не ближе 11 м

2. Как называлась песня дуэта Монсеррат Кабалье и Фредди Меркьюри, ставшая гимном Игр XXV Олимпиады?

- а) Мельбури
б) Барселона
в) Атланта
г) Мюнхен

3. С какого расстояния производится стрельба из электронного и пневматического оружия при сдаче норм ВФСК «ГТО»?

- а) 10 м
б) 13 м
в) 12 м
г) 15 м

4. В каком году состоялись первые Игры доброй воли в Москве?

- а) в 1986 году
б) в 1987 году
в) в 1988 году
г) в 1990 году

5. Вид движения, которое направлено в сторону от срединной части тела вокруг сагиттальной оси?

- а) супинация
б) отведение
в) пронация
г) приведение

6. Какой способ удара по мячу в футболе, считается самым сильным?

- а) пяткой
б) серединой подъёма
в) внешней стороной стопы
г) внутренней стороной стопы

7. В программу первых Олимпийских зимних игр 1924 года в Шамони, было включено два вида лыжного спорта...

- а) гонки на 18 и 50 км среди мужчин
б) гонки на 10 и 30 км среди мужчин
в) гонки на 10 и 20 км
г) гонки на 8 и 15 км

8. Сколько огневых рубежей, в биатлонной эстафетной гонке, проходит каждая команда?

- а) 4 огневых рубежа
б) 8 огневых рубежей
в) 12 огневых рубежей
г) 16 огневых рубежей

9. Как лыжники и биатлонисты называют кубок мира, который получает спортсмен по итогам зачётных индивидуальных гонок текущего соревновательного года?

- а) кубок лыжни
б) золотой глобус
в) король лыжни
г) большой хрустальный глобус

10. В ланте место, откуда совершаются перебежки игроками, выполнившими удары по мячу...

- а) город
б) околица
в) городище
г) пригород

11. Для обозначения координат на шахматной доске используются буквы и цифры. Цифрами обозначают...

- а) диагонали
б) горизонтали
в) первую вертикаль
г) вертикали

12. Кто из гимнасток получил прозвище «королева брусьев» за исполнение очень сложных элементов на этом снаряде?

- а) Светлана Хоркина
б) Ольга Корбут
в) Людмила Турищева
г) Лариса Латынина

13. Как называются церемонии, которые проходят на объектах соревнований сразу после объявлений результатов?

- а) цветочные церемонии
б) торжественные церемонии
в) медальные церемонии
г) поздравительные церемонии

14. Отметьте новые дисциплины, включённые в программу XXIV Олимпийских зимних игр в Пекине 2022. Отметьте все позиции!

- а) командные соревнования в горнолыжном спорте
б) смешанная эстафета в шорт-треке
в) смешанные командные соревнования по фристайлу в акробатике
г) мужские одиночные соревнования по скелетону
д) женские одиночные соревнования по бобслею
е) масс-старт в конькобежном спорте (мужчины и женщины)

15. Какие из представленных упражнений принято называть скоростно-силовыми?

Отметьте все позиции!

- а) бег на 100 м
б) метание мяча на дальность
в) прыжки в длину с места
г) отжимания в упоре лёжа
д) лазание по канату
е) прыжки в высоту

16. Отметьте основные средства для развития общей выносливости.

Отметьте все позиции!

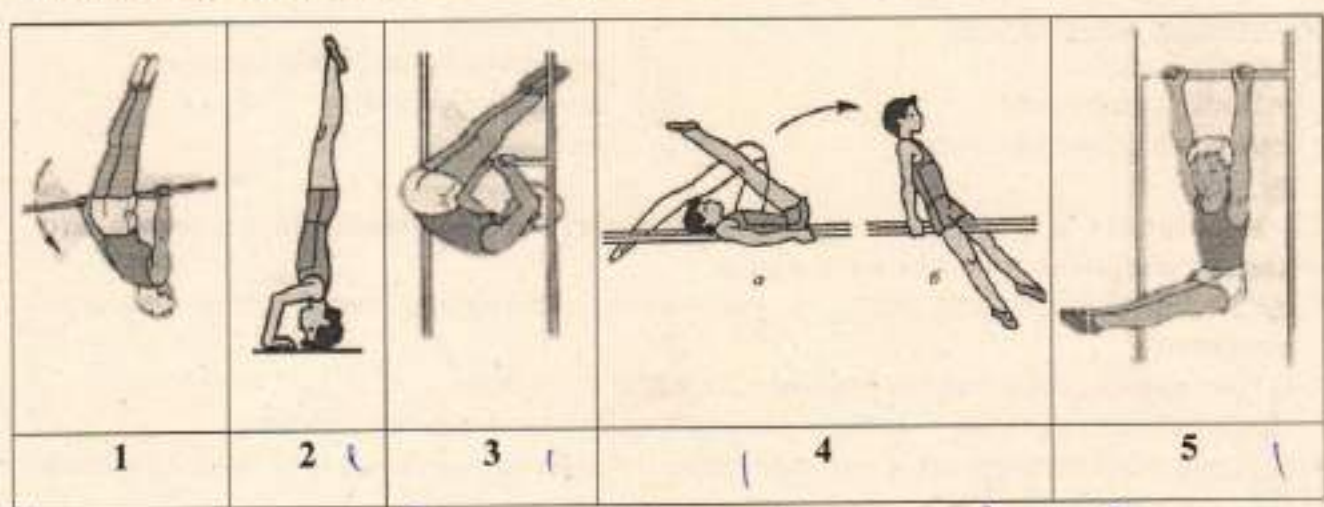
- а) единоборства
б) длительный кросс
в) передвижение на лыжах
г) упражнения силового характера
д) езда на велосипеде
е) плавание

17. Установите правильную последовательность выполнения упражнений для освоения опорного прыжка ноги врозь.

1. С 2-3 шагов разбега вскок в упор стоя согнувшись ноги врозь и соскок прогнувшись.
2. В упоре лёжа отталкивание руками с хлопком в ладони.
3. Прыжок ноги врозь через козла с разбега с помощью и самостоятельно.
4. В упоре лёжа прогнуться и одновременно отталкиваясь руками и ногами, прийти в стойку ноги врозь.
5. С 2-3 шагов разбега вскок в упор присев на козла и соскок ноги врозь.
6. Из упора лёжа толчком ног перейти в упор стоя согнувшись ноги врозь и быстро выпрямиться.

26583

- 2 18. Самый престижный вид соревнований Олимпийских игр в Древней Греции... *пентатлон*
- 2 19. Элемент прыжка, бега и других упражнений, обеспечивающий продвижение тела спортсмена вперед-вверх. Выполняется путем разгибания опорной ноги или двух ног. *отталкивание*
- 2 20. Внешнее сопротивление движению (гиря, штанга), усложняющее выполнение упражнения, способствующее увеличению мышечных усилий. *отягощение*
- 2 21. Какая латинская буква выступает обязательным элементом логотипа Всемирных студенческих игр? *U*
- 2 22. Обусловленное правилами соревнований неподвижное положение атлета со штангой над головой на выпрямленных руках, ноги и туловище прямые, ступни ног на одной линии, параллельной грифу. *фиксация*
- 2 23. Какое место в неофициальном медальном зачёте заняла сборная СССР на Играх XXIII Олимпиады? *Никакая*
- 2 24. Спортивный снаряд, применяемый спортсменами для спуска по ледяной трассе. Состоит из двух полозьев, двух лонжеронов, двух поперечных кронштейнов и обтекателя. Гонщик, управляет снарядом лежа на спине, надавливая ногами на полозья или прилагая усилия на ручки переднего кронштейна. *Сани*
- 25. Часть сектора для толкания ядра, прикрывает кольцо круга для толкания сверху и совпадает с ним внутренней поверхностью. *Грунт*
- 26. Напишите Фамилию Имя первого олимпийца Красноярского края, принимавшего участие в Играх XV Олимпиады в Хельсинки. *Иванов*
27. В бланке ответов запишите названия гимнастических упражнений и положений, представленных на рисунках.



1 *Упражнение Висение*

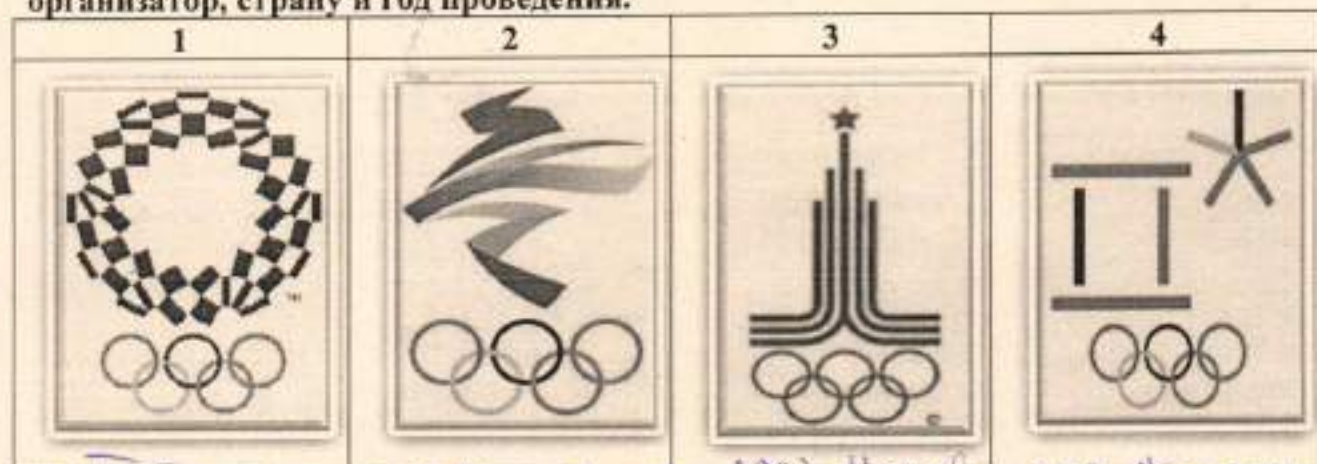
2 *Станция на голове и руках*

3 *Вис согнувшись*

4 *Подъем туловища без ног*

5 *Вис упор*

28. По представленным эмблемам напишите номер Олимпийских игр, город-организатор, страну и год проведения.



4
XXXII Токио
2020 Япония

2022 Пекин Китай
XXIV

1980 Москва
СССР XXII

2008 Пекин Китай
XXVIII

29. ЗАДАЧА.

Используя представленную сетку турнира по футболу ответьте на вопросы.

- 4
- Какие команды встретились в финале турнира? *Спартак и ЦСКА*
 - Какая команда стала победителем турнира? *Спартак*
 - С какой стадии соревнований начался турнир по футболу? *1/16*
 - До какой стадии соревнований дошла команда Алания? *полуфинал*



30. Установите соответствие между Фамилией, Именем и видом спорта в котором выступали прославленные спортсмены Красноярского края.

Фамилия		Имя		Вид спорта	
1	Олонин	1	Светлана	1	скелетон
2	Шумаков	2	Никита	2	Лёгкая атлетика
3	Сидько	3	Николай	3	биатлон
4	Труненок	4	Евгений	4	сноуборд
5	Сухарнова	5	Алексей	5	бобслей
6	Трегубов	6	Дмитрий	6	Лыжные гонки
7	Мастеркова	7	Алёна	7	баскетбол
8	Устюгов	8	Ольга	8	Греко-римская борьба

8
234
258
378
105
537
622
722
813

Муниципальный этап всероссийской олимпиады школьников
по физической культуре 2023 - 2024 учебный год
Теоретическая часть: 9 – 11 класс

Инструкция по выполнению заданий

Вам предлагаются задания, основанные на содержании основной образовательной программы основного общего образования.

Задания объединены в 7 групп:

1 группа (1 – 13 вопросы). Задания в закрытой форме, с предложенными вариантами ответов. Задания представлены в форме незавершенных утверждений, которые, при завершении, могут оказаться либо истинными, либо ложными. Правильным является то, которое наиболее полно соответствует смыслу утверждения. При выполнении этих заданий, необходимо выбрать только один правильный ответ!

2 группа (14 - 16 вопросы). Задания в закрытой форме, с несколькими предложенными вариантами ответов. Это условие указано в задании «Отметьте все позиции!». При выполнении этих заданий, необходимо выбрать несколько правильных ответов.

Выбранные варианты ответов группы 1 и 2 отмечаются зачеркиванием соответствующего квадрата в бланке ответов.

3 группа (17 вопрос). Задания в которых необходимо установить последовательность предложенных вариантов ответов. Ответы вписывайте в соответствующую графу бланка ответов. Жюри оценивает каждую, представленную позицию.

4 группа (18 - 26 вопрос). Задания в открытой форме, то есть, без предложенных вариантов ответов. При выполнении этого задания, необходимо самостоятельно подобрать вариант ответа, который, завершая высказывание, образует истинное утверждение. Подобранный ответ вписывайте в соответствующую графу бланка ответов. Записи должны быть разборчивыми. Жюри оценивает каждую представленную Вами позицию.

5 группа (27 - 28 вопрос). Визуальные задания, в которых необходимо написать вариант ответа, который соответствует представленной картинке. Ответы вписывайте в соответствующую графу бланка ответов. Жюри оценивает каждую, представленную позицию.

6 группа (29 вопрос). Задание-задача. По представленным данным следует ответить на поставленные вопросы. Записи выполняйте в бланке ответов.

7 группа (30 вопрос). Задание, в котором необходимо установить соответствие между предложенными вариантами.

Внимательно читайте задания и предлагаемые варианты ответов. Старайтесь не угадывать, а логически обосновывать сделанный Вами выбор. Пропускайте незнакомые задания. Это позволит сэкономить время для выполнения других заданий. Впоследствии, Вы сможете вернуться к пропущенному заданию.

Все ответы на предложенные задания вписываются в бланк ответов! Будьте внимательны, делая записи в бланке ответов. Исправления и подчистки оцениваются как неправильный ответ.

Время выполнения заданий – 45 минут!

Желаем удачи!

1. На каком расстоянии от мяча ставится «стенка», при выполнении штрафного удара в футболе?

- а) не ближе 7,25 м
б) не ближе 9 м
в) не ближе 9,15 м
г) не ближе 11 м

2. Как называлась песня дуэта Монсеррат Кабалье и Фредди Меркьюри, ставшая гимном Игр XXV Олимпиады?

- а) Мельбури
б) Барселона
в) Атланта
г) Мюнхен

3. С какого расстояния производится стрельба из электронного и пневматического оружия при сдаче норм ВФСК «ГТО»?

- а) 10 м
б) 13 м
в) 12 м
г) 15 м

4. В каком году состоялись первые Игры доброй воли в Москве?

- а) в 1986 году
б) в 1987 году
в) в 1988 году
г) в 1990 году

5. Вид движения, которое направлено в сторону от срединной части тела вокруг сагиттальной оси?

- а) супинация
б) отведение
в) пронация
г) приведение

6. Какой способ удара по мячу в футболе, считается самым сильным?

- а) пяткой
б) серединой подъёма
в) внешней стороной стопы
г) внутренней стороной стопы

7. В программу первых Олимпийских зимних игр 1924 года в Шамони, было включено два вида лыжного спорта...

- а) гонки на 18 и 50 км среди мужчин
б) гонки на 10 и 30 км среди мужчин
в) гонки на 10 и 20 км
г) гонки на 8 и 15 км

8. Сколько огневых рубежей, в биатлонной эстафетной гонке, проходит каждая команда?

- а) 4 огневых рубежа
б) 8 огневых рубежей
в) 12 огневых рубежей
г) 16 огневых рубежей

9. Как лыжники и биатлонисты называют кубок мира, который получает спортсмен по итогам зачётных индивидуальных гонок текущего соревновательного года?

- а) кубок лыжни
б) золотой глобус
в) король лыжни
г) большой хрустальный глобус

10. В лапте место, откуда совершаются перебежки игроками, выполнившими удары по мячу...

- а) город
б) околица
в) городище
г) пригород

11. Для обозначения координат на шахматной доске используются буквы и цифры. Цифрами обозначают...

- а) диагонали
б) горизонтали
в) первую вертикаль
г) вертикали

12. Кто из гимнасток получил прозвище «королева брусьев» за исполнение очень сложных элементов на этом снаряде?

- а) Светлана Хоркина
б) Ольга Корбут
в) Людмила Турищева
г) Лариса Латынина

13. Как называются церемонии, которые проходят на объектах соревнований сразу после объявлений результатов?

- а) цветочные церемонии
б) торжественные церемонии
в) медальные церемонии
г) поздравительные церемонии

14. Отметьте новые дисциплины, включённые в программу XXIV Олимпийских зимних игр в Пекине 2022. Отметьте все позиции!

- а) командные соревнования в горнолыжном спорте
б) смешанная эстафета в шорт-треке
в) смешанные командные соревнования по фристайлу в акробатике
г) мужские одиночные соревнования по скелетону
д) женские одиночные соревнования по бобслею
е) масс-старт в конькобежном спорте (мужчины и женщины)

15. Какие из представленных упражнений принято называть скоростно-силовыми?

Отметьте все позиции!

- а) бег на 100 м
б) метание мяча на дальность
в) прыжки в длину с места
г) отжимания в упоре лёжа
д) лазание по канату
е) прыжки в высоту

16. Отметьте основные средства для развития общей выносливости.

Отметьте все позиции!

- а) единоборства
б) длительный кросс
в) передвижение на лыжах
г) упражнения силового характера
д) езда на велосипеде
е) плавание

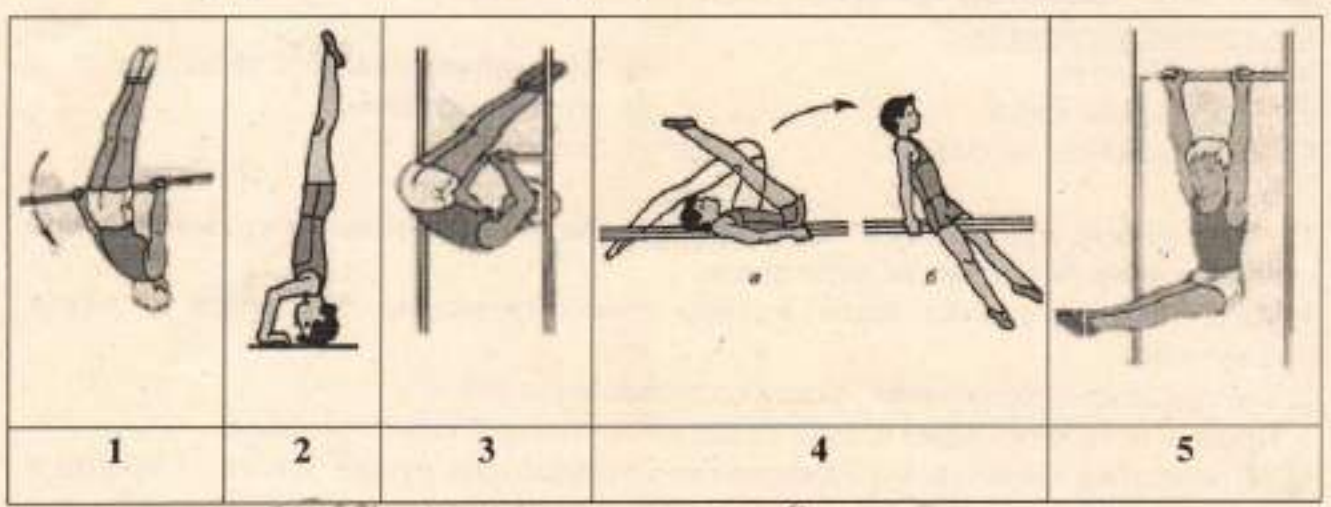
17. Установите правильную последовательность выполнения упражнений для освоения опорного прыжка ноги врозь.

1. С 2-3 шагов разбега вскок в упор стоя согнувшись ноги врозь и соскок прогнувшись.
2. В упоре лёжа отталкивание руками с хлопком в ладони.
3. Прыжок ноги врозь через козла с разбега с помощью и самостоятельно.
4. В упоре лёжа прогнуться и одновременно отталкиваясь руками и ногами, прийти в стойку ноги врозь.
5. С 2-3 шагов разбега вскок в упор присев на козла и соскок ноги врозь.
6. Из упора лёжа толчком ног перейти в упор стоя согнувшись ноги врозь и быстро выпрямиться.

264375


лекция

- 18. Самый престижный вид соревнований Олимпийских игр в Древней Греции... *борьба на коленях*
- + 19. Элемент прыжка, бега и других упражнений, обеспечивающий продвижение тела спортсмена вперед-вверх. Выполняется путем разгибания опорной ноги или двух ног. *отталкивание*
- + 20. Внешнее сопротивление движению (гиря, штанга), усложняющее выполнение упражнения, способствующее увеличению мышечных усилий. *отягощение*
- + 21. Какая латинская буква выступает обязательным элементом логотипа Всемирных студенческих игр? *V*
- + 22. Обусловленное правилами соревнований неподвижное положение атлета со штангой над головой на выпрямленных руках, ноги и туловище прямые, ступни ног на одной линии, параллельной грифу. *фиссаж*
- 23. Какое место в неофициальном медальном зачете заняла сборная СССР на Играх XXIII Олимпиады? ~~1 место~~
- 24. Спортивный снаряд, применяемый спортсменами для спуска по ледяной трассе. Состоит из двух полозьев, двух лонжеронов, двух поперечных кронштейнов и обтекателя. Гонщик, управляет снарядом лежа на спине, надавливая ногами на полозья или прилагая усилия на ручки переднего кронштейна. *бобслей*
- 25. Часть сектора для толкания ядра, прикрывает кольцо круга для толкания сверху и совпадает с ним внутренней поверхностью. *заклад*
- сегменты
и вал
сегменты 26. Напишите Фамилию Имя первого олимпийца Красноярского края, принимавшего участие в Играх XV Олимпиады в Хельсинки. *Александр Мухомов*
- 27. В бланке ответов запишите названия гимнастических упражнений и положений, представленных на рисунках.



партнерская гимнастика
 1. *на коленях с партнером*
 2. *на коленях с партнером*
 3. *на коленях с партнером*
 4. *Бег вверх по ступенькам*
 5. *Угол на турнике*

28. По представленным эмблемам напишите номер Олимпийских игр, город-организатор, страну и год проведения.



XXII 1994 + 2020 г. Токио
 2022 + Пекин XXIV Китай
 1980 + СССР Москва
 2018 + 975 Пхенчхан XXIII

29. ЗАДАЧА.

Используя представленную сетку турнира по футболу ответьте на вопросы.

1. Какие команды встретились в финале турнира? *Спартак и ЦСКА*
2. Какая команда стала победителем турнира? *Спартак*
3. С какой стадии соревнований начался турнир по футболу? *1/4*
4. До какой стадии соревнований дошла команда Алания? *полуфинал*



30. Установите соответствие между Фамилией, Именем и видом спорта в котором выступали прославленные спортсмены Красноярского края.

134
258
367
465
587
621
712
843

Фамилия		Имя		Вид спорта	
1	Олюнин +	1	Светлана	1	скелетон
2	Шумаков +	2	Никита	2	Лёгкая атлетика
3	Сидько +	3	Николай	3	биатлон
4	Труненок +	4	Евгений	4	сноуборд
5	Сухарнова +	5	Алексей	5	бобслей
6	Трегубов +	6	Дмитрий	6	Лыжные гонки
7	Мастеркова +	7	Алёна	7	баскетбол
8	Устюгов +	8	Ольга	8	Греко-римская борьба